




पाठ - 8







करों मज़े-दस के साथ

मेरी मदद करो

Q1. बिना अंकल की मदद से, क्या तुम यह कर सकते हो? इन चीजों के लिए तुम्हें कितने 10 रुपये के नोट और एक-एक रुपये के सिक्के चाहिए? चित्र बनाओ।

 20 रु	
32 रु 	
 55 रु	

उत्तर :

 Rs 20	
Rs 32 	
 Rs 55	

Q2. इन नोटों और सिक्कों को मिलाकर कितने रुपये होंगे?

Three 10 Rupee notes = 30 रुपये

One 20 Rupee note, three 2 Rupee coins, and one 50 Rupee note = _____ रुपये

Ten 1 Rupee coins = _____ रुपये

Two 50 Rupee notes, two 20 Rupee notes, and five 5 Rupee coins = _____ रुपये

One 100 Rupee note, one 50 Rupee note, one 20 Rupee note, and five 5 Rupee coins = _____ रुपये

उत्तर :

Three 10 Rupee notes = Rs 30

One 20 Rupee note, three 2 Rupee coins, and one 50 Rupee note = Rs 23

Ten 1 Rupee coins = Rs 10

Two 50 Rupee notes, two 20 Rupee notes, and five 5 Rupee coins = Rs 27

One 100 Rupee note, one 50 Rupee note, one 20 Rupee note, and five 5 Rupee coins = Rs 45

अभ्यास का समय

Q1. अब तुम इन्हें लिखो और जोर से पढ़ो।

$$\begin{aligned} 27 &= \underline{\quad} + 7 \\ 31 &= 30 + \underline{\quad} \\ 54 &= \underline{\quad} + \underline{\quad} \\ \underline{\quad} &= 90 + 9 \\ 63 &= \underline{\quad} + \underline{\quad} \\ 36 &= \underline{\quad} + \underline{\quad} \\ \underline{\quad} &= 80 + 2 \end{aligned}$$

उत्तर : $27 = 20 + 7$

$$31 = 30 + 1$$

$$54 = 50 + 4$$

$$99 = 90 + 9$$

$$63 = 60 + 3$$

$$36 = 30 + 6 \quad 82 = 80 + 2$$

Q2. आप इनको तोड़कर लिखने की कोशिश कीजिए।

$$\begin{aligned} 12 &= 10 + 2 \\ 19 &= \underline{\quad} + 9 \\ 11 &= \underline{\quad} + \underline{\quad} \\ \underline{\quad} &= 10 + 7 \end{aligned}$$

उत्तर : $19 = 10 + 9$

$$11 = 10 + 1$$

$$17 = 10 + 7$$

Q3. पता करो तुम्हारे स्कूल की हर कक्षा में कितने बच्चे हैं।

उत्तर : स्वयं करे

Q4. हर कक्षा में दस-दस की टीमों बनाओ।


उत्तर : स्वयं करे

Q5. हर कक्षा में कितने बच्चे हैं।







उत्तर : स्वयं करे

बांसुरी वाला और चूहे

Q1. उसके पास जेब में कौन-कौन से कार्ड होंगे अगर उसने इतना गिना।

- (क) 23 → 
- (ख) 47 →
- (ग) 55 →
- (घ) 63 →
- (ङ) 72 →
- (च) 80 →

उत्तर :

- (a) 23 → 
- (b) 47 → 
- (c) 55 → 
- (d) 63 → 
- (e) 72 → 
- (f) 80 → 

स्कूल में सफाई दिवस

Q1. हर कक्षा में कितनी टीमों होंगी? कितने बच्चे किसी भी टीम में नहीं होंगे? यहाँ लिखो।

	कितनी टीमों?	बचे हुए बच्चे
कक्षा 1		
कक्षा 2		
कक्षा 3		
कक्षा 4		
कक्षा 5		

उत्तर : स्वयं करे

Q2. सभी में कितने छात्र बचे हैं?

उत्तर : सभी में 20 छात्र बचे हैं।

Q3. इन बच्चों से कितनी टीमों और बन सकती हैं?

उत्तर : इन सभी छात्रों के साथ 2 और टीमों बनाई जा सकती हैं।