

पाठ - 15

मंडी से घर तक

रात में दिन

Q1. क्या तुम्हारे घर में भी किसी को सुबह बहुत जल्दी उठना पड़ता है? किस समय? किस काम के लिए?

उत्तर : मेरे घर में मेरे भैया को सुबह जल्दी उठना पड़ता है। वे 5.00 बजे सुबह उठते हैं। वे पढ़ाई करने के लिए सुबह जल्दी उठते हैं।

बताओ

Q1. बाबूजी पिछले दिन की सब्जियाँ पहले बेचने की कोशिश करते हैं। वे ऐसा क्यों करते होंगे?

उत्तर : क्योंकि पिछले दिन की बची हुई सब्जियाँ पहले खराब हो जायेंगी।

Q2. क्या तुमने कभी सूखी या सड़ी-गली सब्जी देखी है? कहाँ?

उत्तर : हाँ, मैंने सूखी तथा सड़ी-गली सब्जियाँ अपने घर में तथा सब्जी मंडी में देखी है।

Q3. तुम्हें कैसे पता चलता है कि सब्जी खराब हो गई है?

उत्तर : स्वयं करे

Q4. नीचे घड़ियों में दिखाए गये समय पर तुम और वैशाली क्या-क्या कर रहे होते हो?



सुबह

वैशाली _____

तुम _____



सुबह

वैशाली _____

तुम _____

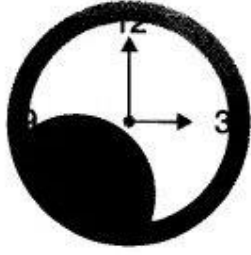


रात

वैशाली _____

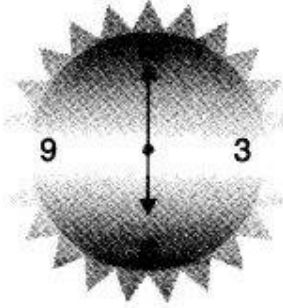
तुम _____

उत्तर
:



सुबह

वैशाली-सब्जियाँ निकालती है।
तुम-में सोया रहता हूँ।



सुबह

वैशाली-सब्जियाँ बोरे में रखती हैं।
तुम-अपना होम वर्क करता हूँ।



रात

वैशाली-सो जाती है।
तुम-सोने जा रहा होता हूँ।

Q5. तुम्हारे घर में सब्जियाँ कहाँ से आती हैं? उन्हें कौन लाता है?

उत्तर : मेरे घर में सब्जियाँ बाजार से आती है। प्रायः मेरी मम्मी और मैं सब्जियाँ लाता हूँ।

सब्जियों के साथ कुछ खेल

Q1. अब की बार जब घर में भिंडी आए, तब कुछ भिंडी लेकर देखो। क्या ये सब भिंडियाँ एक ही नाप की हैं?

उत्तर : नहीं, सभी भिंडियाँ एक ही नाप की नहीं हैं। ये अलग-अलग नाप की हैं।

Q2. उनमें से सबसे लंबी और सबसे छोटी भिंडी छाँटो और नाप कर लिखो।

उत्तर : सबसे लंबी भिंडी 6 ईंच की तथा सबसे छोटी भिंडी 2 ईंच की हैं।

Q3. क्या उनके रंग एक से हैं?

उत्तर : हाँ, उनके रंग एक से हैं।

Q4. क्या वे एक जितनी मोटी हैं?

उत्तर : नहीं, वे अलग-अलग मोटाई के हैं।

Q5. दो भिंडियों को लंबाई में काटो। क्या उनमें एक जितने बीज हैं?

उत्तर : नहीं, दोनों भिंडियों में एक जितने बीज नहीं हैं।

Q6. कॉपी में उनके चित्र बनाओ।

उत्तर :



Q7. सीमा की मम्मी बाजार से कुछ फल-सब्जियाँ लाई हैं। कॉपी में उनके नाम भी लिखो।

उत्तर : बैंगन, आलू, कद्दू, टमाटर, गाजर, भिंडी, साग।

Q8. चित्र में उन्हें ढूँढो और रंग भरो।



उत्तर : स्वयं करो।

पता करो

Q1. यहाँ पर कुछ फल और सब्जियों की सूची दी गई है। इनमें से कौन-कौन से फल और सब्जियाँ पहले खराब हो जाएँगे और कौन-से कुछ दिन तक रखे जा सकते हैं? उनके नाम तालिका में ठीक जगह पर भरें। तुम अपनी तरफ से कुछ और नाम भी इस सूची में डाल सकते हो।

पालक	आलू	केला	टमाटर	नाशपाती	चीकू	अनानास
लौकी	प्याज	फूलगोभी	खीरा	अंगूर	अदरख	


जल्दी खराब होने वाले फल और सब्जियाँ	कुछ दिनों तक रखे जा सकने वाले फल और सब्जियाँ

उत्तर :

जल्दी खराब होने वाले फल और सब्जियाँ	कुछ दिनों तक रखे जा सकने वाले फल और सब्जियाँ
पालक	लौकी
केला	आलू
फूलगोभी	प्याज
टमाटर	नाशपाती
खीरा	चीकू
अंगूर	अदरख
बैंगन	अनानास

Q2. किसी एक फल या सब्जी का नाम लिखो, जो तुम्हें उठाने में सबसे भारी लगे। उसका चित्र कॉपी में बनाओ।

उत्तर : कद्दू



Q3. तुमने जो फल और सब्जियाँ खाई हैं, उनमें से सबसे हल्का फल या सब्जी कौन-सी है? उसका नाम लिखकर कॉपी में चित्र बनाओ।

उत्तर : अंगूर



Q4. तीन ऐसी सब्जियों के नाम लिखो, जिनमें बीज नहीं होते।

उत्तर : आलू, गोभी, पत्ता गोभी।

Q5. नीचे दी गई तालिका को पूरा करो। तुम इसमें अपनी पसंद के तीन और नाम जोड़ सकते हो।

	रंग	लंबाई	मात्रा	दाम
सेब			($\frac{1}{2}$ किलो)	
केला			(1 दर्जन)	
आलू			($\frac{1}{2}$ किलो)	

उत्तर :

नाम	रंग	लंबाई	मात्रा	दाम्
सेव	लाल/हरा	5 सें.मी.	(1/2 किलो)	50 रुपये
केला	पीला	12 सें.मी.	(1 दर्जन)	25 रुपये
आलू	गरे	5 सें.मी.	(1/2 किलो)	5 रुपये
पत्ता गोभी	हरा	20 सें.मी.	1 किलो	20 रुपये
भिंडी	हरा	6 सें.मी.	1 किलो	20 रुपये
टमाटर	लाल	5 सें.मी.	1 किलो	25 रुपये

Q6. अपने इलाके के किसी सब्जी बेचने वाले व्यक्ति से बातचीत करो। उनसे ये प्रश्न पूछकर कॉपी में एक छोटी-सी रिपोर्ट बनाओ। उनका नाम क्या है?

उत्तर : तारिक अनवर

Q7. उनके घर में कितने लोग हैं?

उत्तर : दस लोग।

Q8. कितने बच्चे हैं?

उत्तर : उनके घर में चार बच्चे हैं।

Q9. उनके बच्चों के नाम और उनकी उम्र क्या है।

उत्तर : महताब – 15 साल शमीम – 12 साल ज़बेदा – 8 साल रजिया – 3 साल

Q10. सब्जी बेचने में उनकी मदद कौन-कौन करते हैं?

उत्तर : उसकी पत्नी एवं उनका बेटा।

Q11. ठेले/रेहड़ी/दुकान पर उनके अलावा कौन-कौन बैठते हैं?

उत्तर : उनकी पत्नी, उनके पिताजी, उनका बड़ा लड़का।

Q12. वे कौन-कौन सी सब्जियाँ बेचते हैं?

उत्तर : सभी तरह की सब्जियाँ।

Q13. वे कितने बजे काम शुरू करते हैं?

उत्तर : वे सुबह 4 बजे अपना काम शुरू करते हैं।

Q14. वे दिन में लगभग कितने घंटे काम करते हैं?

उत्तर : वे लगभग 15 घंटे काम करते हैं।

Q15. उनसे किन्हीं तीन सब्जियों के बारे में कुछ बातें पता करो-

	सब्जी-1	सब्जी-2	सब्जी-3
सब्जी का नाम			
उसका दाम			
कौन-सी जगह से लाई जाती है?			
एक बार में वे कितनी सब्जी खरीदते हैं?			
यह सब्जी किन महीनों में ज्यादा आती है?			

उत्तर :

	सब्जी-1	सब्जी-2	सब्जी-3
सब्जी का नाम	आलू	प्याज	टमाटर
उसका दाम (प्रति किलो)	10 रुपये	10 रुपये	10 रुपये
कौन सी जगह से लाई जाती है?	सब्जी मंडी	सब्जी मंडी	सब्जी मंडी
एक बार में वे कितनी सब्जी खरीदते हैं?	100 किलो	100 किलो	100 किलो
यह सब्जी किन महीनों में ज्यादा आती है?	फरवरी-मार्च	फरवरी-मार्च	फरवरी-मार्च